










## PROBLEMA Nº 5: ¿CUÁNTO VALEN LAS FLORES?

Las flores del romero,  
niña Isabel,  
hoy son flores azules,  
mañana serán miel".  
(Góngora)

			= 10
			= 16
			= 9
15	8	12	

Cada flor siempre vale lo mismo. ¿Cuánto vale cada una para que estas sumas sean correctas?